


تمرين - تقديم قراءة و كتابة الأعداد الكسرية

1 - اكتب العدد الكسري الذي يمثل الجزء الملون

.....

.....



2 - اكتب العدد الكسري الذي يمثل الجزء الملون


.....

.....



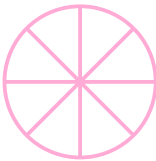
3 - لون الجزء لتمثيل العدد الكسري المحدد

$\frac{3}{6}$



4 - لون الجزء لتمثيل العدد الكسري المحدد


$\frac{7}{8}$



5 - قم بتلوين النماذج أدناه بحيث تمثل كسور متكافئة. ثم اكتب الكسور المقابلة لكل نموذج.

.....

.....



.....

.....




.....

.....



.....


.....



تصحيح - تقديم قراءة وكتابة الأعداد الكسرية

1 - اكتب العدد الكسري الذي يمثل الجزء الملون

$$\frac{5}{10}$$




2 - اكتب العدد الكسري الذي يمثل الجزء الملون

$$\frac{2}{5}$$



3 - لون الجزء لتمثيل العدد الكسري المحدد

$$\frac{3}{6}$$




4 - لون الجزء لتمثيل العدد الكسري المحدد

$$\frac{7}{8}$$




5 - قم بتلوين النماذج أدناه بحيث تمثل كسور متكافئة. ثم اكتب الكسور المقابلة لكل نموذج.


$$\frac{5}{6}$$



$$\frac{10}{12}$$



$$\frac{15}{18}$$



$$\frac{20}{24}$$

