

تمرين - سلسلة من الأعداد - تمثيل عدد على المستقيم العددي

1 - أكمل سلسلة الأعداد التالية (قم بالعد بمئتين تصاعدياً) :

774 401

774 601

774 801

.....

.....

.....

.....

.....

.....

776 201

2 - أكمل سلسلة الأعداد التالية (قم بالعد بعشرين تنازلياً) :

263 532

263 512

263 492

.....

.....

.....

.....

.....

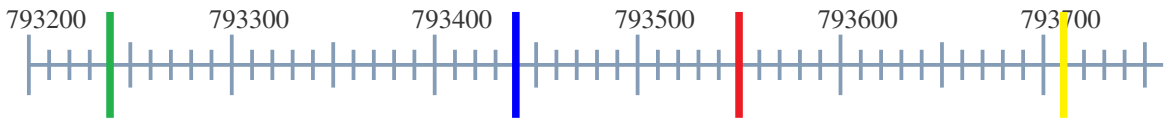
.....

263 352

3 - قم بتمثيل العدد 39000 على المستقيم العددي :



4 - أوجد الأعداد المقابلة للمواقع المشار إليها على المستقيم العددي :



— :

— :

— :

— :

تصحيح - سلسلة من الأعداد - تمثيل عدد على المستقيم العددي

1 - أكمل سلسلة الأعداد التالية (قم بالعد بعشرين تصاعدياً) :

774 401

774 601

774 801

775 001

775 201

775 401

775 601

775 801

776 001

776 201

2 - أكمل سلسلة الأعداد التالية (قم بالعد بعشرين تنازلياً) :

263 532

263 512

263 492

263 472

263 452

263 432

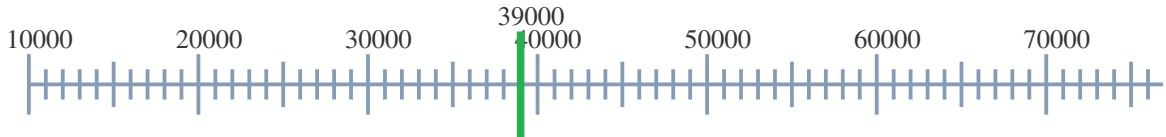
263 412

263 392

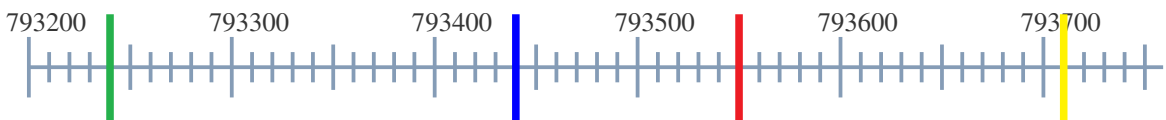
263 372

263 352

3 - قم بتمثيل العدد 39000 على المستقيم العددي :



4 - أوجد الأعداد المقابلة للمواقع المشار إليها على المستقيم العددي :



— : 793240

— : 793440

— : 793550

— : 793710