

## تمرين - سلسلة من الأعداد - تمثيل عدد على المستقيم العددي

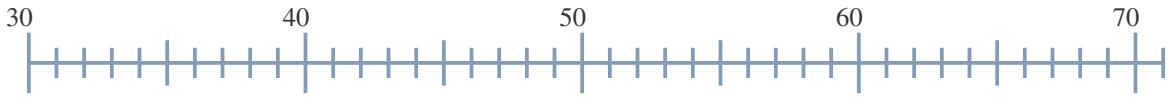
1 - أكمل سلسلة الأعداد التالية (قم بالعد بعشرة تصاعديا) :

|       |       |       |       |       |       |
|-------|-------|-------|-------|-------|-------|
| 4     | 14    | 24    | ..... | ..... | ..... |
| ..... | ..... | ..... | 94    |       |       |

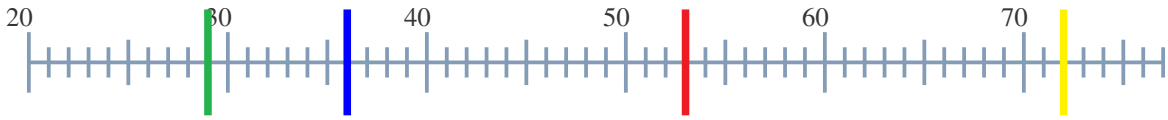
2 - أكمل سلسلة الأعداد التالية (قم بالعد بعشرة تنازليا) :

|       |       |       |       |       |       |
|-------|-------|-------|-------|-------|-------|
| 93    | 83    | 73    | ..... | ..... | ..... |
| ..... | ..... | ..... | 3     |       |       |

3 - قم بتمثيل العدد 62 على المستقيم العددي :



4 - أوجد الأعداد المقابلة للمواقع المشار إليها على المستقيم العددي :



- : .....
- : .....
- : .....
- : .....

## تصحيح - سلسلة من الأعداد - تمثيل عدد على المستقيم العددي

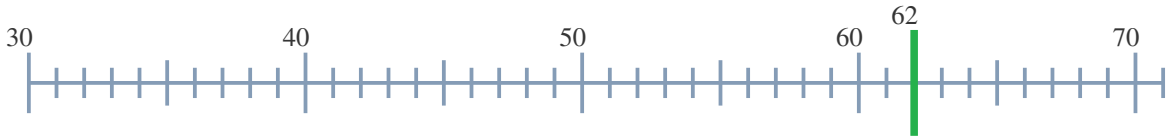
1 - أكمل سلسلة الأعداد التالية (قم بالعد بعشرة تصاعديا) :

|    |    |    |    |    |    |
|----|----|----|----|----|----|
| 4  | 14 | 24 | 34 | 44 | 54 |
| 64 | 74 | 84 | 94 |    |    |

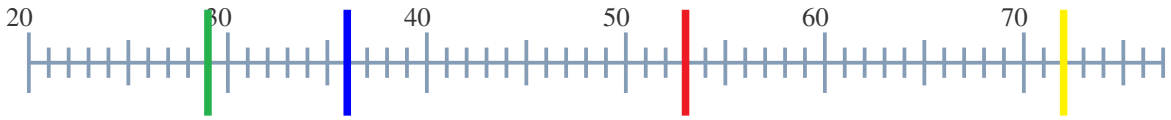
2 - أكمل سلسلة الأعداد التالية (قم بالعد بعشرة تنازليا) :

|    |    |    |    |    |    |
|----|----|----|----|----|----|
| 93 | 83 | 73 | 63 | 53 | 43 |
| 33 | 23 | 13 | 3  |    |    |

3 - قم بتمثيل العدد 62 على المستقيم العددي :



4 - أوجد الأعداد المقابلة للمواقع المشار إليها على المستقيم العددي :



— : 29

— : 36

— : 53

— : 72