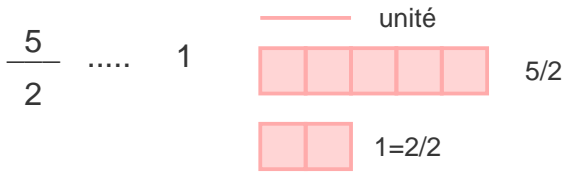
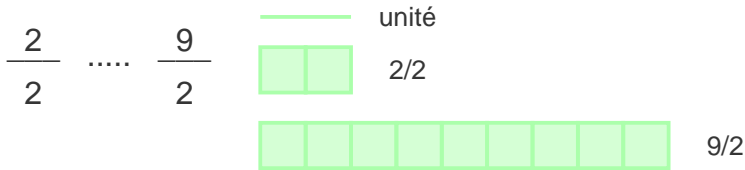


Exercice - Comparaison et ordonnement des Fractions

1 - Remplir avec "<", ">" ou "="



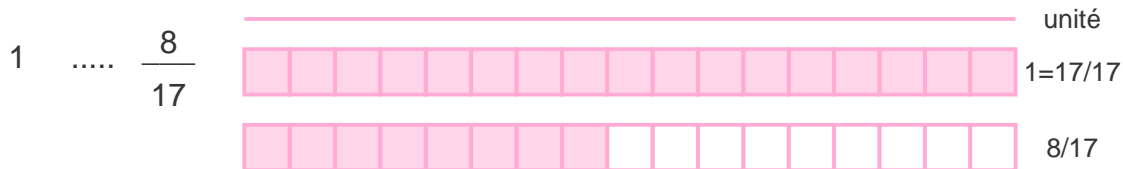
2 - Remplir avec "<", ">" ou "="



3 - Remplir avec "<", ">" ou "="



4 - Remplir avec "<", ">" ou "="



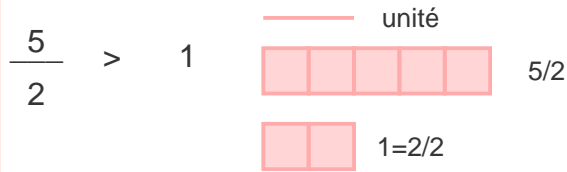
5 - Ordonner les fractions suivantes de la plus petite à la plus grande : 6/14, 10/14, 2/14, 14/14, 1/14



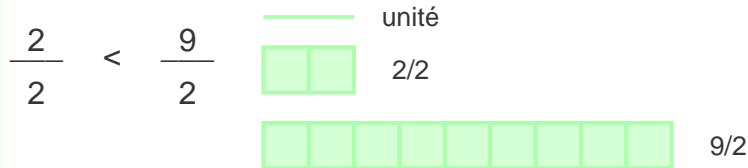
$$\frac{\dots}{14} < \frac{\dots}{14} < \frac{\dots}{14} < \frac{\dots}{14} < \frac{\dots}{14}$$

Correction - Comparaison et ordonnement des Fractions

1 - Remplir avec "<", ">" ou "="



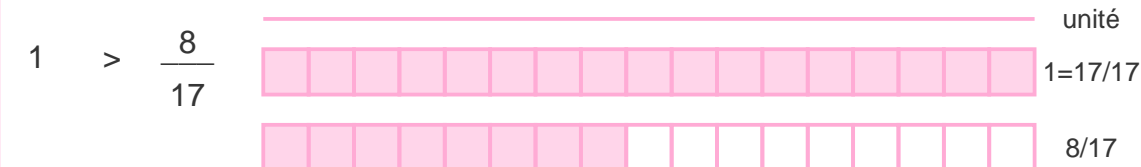
2 - Remplir avec "<", ">" ou "="



3 - Remplir avec "<", ">" ou "="



4 - Remplir avec "<", ">" ou "="



5 - Ordonner les fractions suivantes de la plus petite à la plus grande : 6/14, 10/14, 2/14, 14/14, 1/14



$$\frac{1}{14} < \frac{2}{14} < \frac{6}{14} < \frac{10}{14} < \frac{14}{14}$$